

CAP ESTHÉTIQUE COSMÉTIQUE PARFUMERIE

ÉPREUVE EP1 A : TECHNIQUES ESTHÉTIQUES DU VISAGE, DES MAINS ET DES PIEDS

SESSION 2025

Ce sujet comporte 7 pages numérotées de 1/7 à 7/7.

Assurez-vous que cet exemplaire est complet.

Aucun document n'est autorisé.

L'usage de la calculatrice avec mode examen actif est autorisé.

L'usage de la calculatrice sans mémoire, « type collège » est autorisé.

Le candidat compose directement sur le document réponse qu'il rendra à l'issue des 45 minutes.

Le candidat rendra le reste des documents à l'issue de l'épreuve.

CAP ESTHÉTIQUE COSMÉTIQUE PARFUMERIE	25-CAP-ECP-EP1-MEAG1	Session 2025	SUJET 6
EP1 A : Techniques esthétiques du visage, des mains et des pieds	Durée : 2h45	Coefficient : 5	Page 1 / 7

SUJET N°6

Situation professionnelle :

Madame DORGERE a pris rendez-vous pour des soins esthétiques du visage et des mains et pour un maquillage.

À son arrivée, Madame DORGERE vous précise qu'elle participe à une soirée.

Première partie

Après avoir pris connaissance de la situation professionnelle et de la fiche diagnostic beauté (Annexe 1), vous disposez de 45 minutes pour :

1- **Déduire** le type de peau de la cliente :

.....

2- **Répondre** au questionnement en renseignant le document réponse (page 4/7 à 7/7) à restituer au jury à l'issue des 45 minutes.

Deuxième partie

Vous disposez de 2 heures pour réaliser :

- Un soin esthétique du visage adapté à la fiche diagnostic beauté, incluant l'utilisation d'un appareil ;
- Un gommage sur les deux mains ;
- Un maquillage visage adapté à la situation professionnelle.

À l'issue de l'épreuve, vous remettrez l'ensemble des documents en votre possession au jury.

ANNEXE 1 – Fiche diagnostic beauté de Madame DORGERE

	Nom : DORGERE Annie Date de naissance : 2 décembre 1995	Profession : Infirmière
	Diagnostic beauté visage	
CARACTÉRISTIQUES VISUELLES	ZONE MÉDIANE <input checked="" type="checkbox"/> Ostia dilatés <input checked="" type="checkbox"/> Brillance <input type="checkbox"/> Ostia rétractés <input type="checkbox"/> Rougeurs <input checked="" type="checkbox"/> Comédons <input type="checkbox"/> Squames	ZONES LATÉRALES <input checked="" type="checkbox"/> Ostia dilatés <input checked="" type="checkbox"/> Brillance <input type="checkbox"/> Ostia rétractés <input type="checkbox"/> Rougeurs <input type="checkbox"/> Comédons <input type="checkbox"/> Squames
CARACTERISTIQUES PALPATOIRES	ZONE MÉDIANE <input type="checkbox"/> Peau fine <input checked="" type="checkbox"/> Peau épaisse <input type="checkbox"/> Peau lisse <input type="checkbox"/> Peau rêche	ZONES LATÉRALES <input type="checkbox"/> Peau fine <input checked="" type="checkbox"/> Peau épaisse <input type="checkbox"/> Peau lisse <input type="checkbox"/> Peau rêche
	<input checked="" type="checkbox"/> Bonne tonicité <input type="checkbox"/> Tonicité moyenne <input type="checkbox"/> Tonicité insuffisante	
	Diagnostic beauté des mains	
ASPECTS VISUEL ET PALPATOIRE	Présence de squames sur les deux mains Mains rêches	

N° CANDIDAT :

DOCUMENT RÉPONSE (pages 4 à 7)
(À restituer à l'issue des 45 minutes)

Reporter le type de peau de Madame DORGERE :

1. Lors du soin esthétique du visage, vous utilisez l'appareil générateur de courant haute fréquence avec électrode de Mac Intyre.





1.1 **Énoncer** la fonction globale de cet appareil :

.....

.....

.....

1.2 **Identifier** l'électrode adaptée au type de peau de Madame DORGERE parmi les électrodes ci-dessous :

Électrode Champignon à air raréfié 	Électrode punctiforme 	Électrode rouleau néon 	Électrode saturatrice 
--	---	---	---

Électrode choisie :

1.3 **Préciser** deux effets attendus de l'électrode choisie sur la peau de votre cliente :

-
-

1.4 **Légender** l'appareil générateur de courant haute fréquence en complétant le tableau ci-dessous.



Source : Catalogue PBI2018

	Organes	Rôles
1		
2		
3		
4		

2. Lors de la phase de traitement, vous appliquez un sérum. Il contient de l'eau, de l'extrait d'agrumes, du glycérol, de l'éthylparabène.

2.1 **Identifier** la forme galénique de ce produit :
.....

2.2 **Identifier** un principe actif et un additif contenu dans ce sérum en précisant leur origine et leur rôle.

Catégorie	Composant	Origine	Rôle
Principe actif			
Additif			

3. Le film hydrolipidique de Madame DORGERE présente un déséquilibre.

3.1 **Indiquer** les deux constituants principaux du film hydrolipidique :

-
-

3.2 **Indiquer** la valeur moyenne du pH cutané :

.....

3.3 **Indiquer** les deux flores microbiennes présentes à la surface de la peau :

-
-

4. Madame DORGERE se plaint de la mauvaise tenue de son maquillage.

4.1 **Indiquer** deux propriétés d'une base de teint :

-
-

La base adaptée à Madame DORGERE est conditionnée dans un flacon pompe.

4.2 **Justifier** le choix de ce conditionnement.

-
-

5. Madame DORGERE souhaite prolonger son bronzage et vous interroge sur les prestations UV

5.1 **Identifier** les ultraviolets selon leur plage de longueur d'onde :

Type d'UV			
Valeur de la Longueur d'onde (nm)		190		280		320		400

5.2 **Énoncer** deux règles d'hygiène des appareils de bronzage.

-
-

5.3 **Indiquer** l'âge minimum requis d'une personne pouvant faire une séance d'UV artificiels selon la réglementation française relative aux appareils UV.

.....

5.4 **Indiquer** trois propriétés d'un produit après-soleil :

-
-
-